

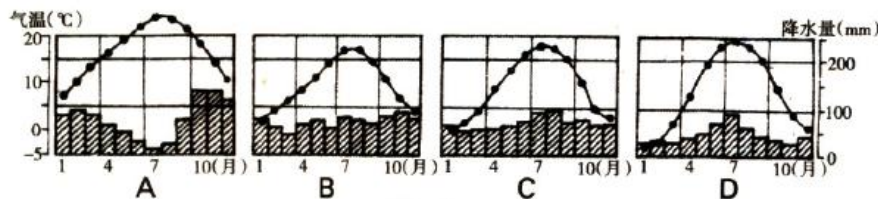
# 2018-2019 学年度第二学期期末考试

## 高二年级地理试卷

命题人:张春燕 审核人:韩红梅

### 一、选择题 (共 60 分)

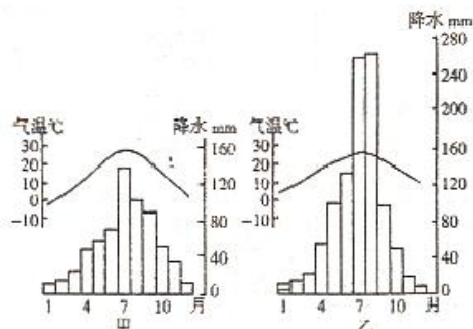
下图四幅气温变化曲线和降水柱状图分别代表了欧洲西部四个地点的气候状况, 根据图中气温和降水的数值进行分析, 并完成 1-5 题的内容:



- 以上四个地点气候类型的分析, 正确的是( )
  - A. B 地和 C 地为温带海洋性气候
  - B. C 地属温带季风气候
  - C. A 地是热带草原气候
  - D. D 地为亚热带季风气候
- 四地气候特点的论述, 正确的说法是( )
  - A. 四地都具有降水丰富且分配均匀的特点
  - B. A 地夏季炎热干燥, 冬季温和多雨
  - C. D 地夏季高温多雨, 冬季寒冷无雨
  - D. B、C 两地冬夏温差大, 降水均匀
- 通过四地资料分析, 概述欧洲西部的气候特点( )
  - A. 冬夏温差较大, 降水比较丰富
  - B. 冬季寒冷, 夏季高温, 降水均匀
  - C. 四季温和, 降水丰富且均匀
  - D. 大部分地区冬季比较温和, 夏季比较凉爽, 降水季节分配较均匀
- 对于欧洲西部气候成因的说法, 错误的是( )
  - A. 四面被海洋环绕, 受海洋影响大
  - B. 绝大部分地区地处西风带
  - C. 大陆西岸受北大西洋暖流影响很明显
  - D. 地形以平原为主且东西延伸, 西风可以深入内陆
- A 地气候的论述, 正确的说法是( )
  - A. 该地为热带草原气候, 有明显的干湿季
  - B. 分布在  $40^{\circ}$ - $60^{\circ}$  之间的大陆上
  - C. 夏季受副热带高气压带控制, 冬季受西风影响
  - D. 终年受海上暖湿空气影响

读甲、乙两地气候直方图, 回答 6-7 题。

- 关于甲乙两地气候类型的正确叙述是( )
  - A. 甲地为亚热带季风气候
  - B. 乙地的气候属于热带草原气候
  - C. 甲地的气候属于温带季风气候
  - D. 乙地的气候属于热带季风气候



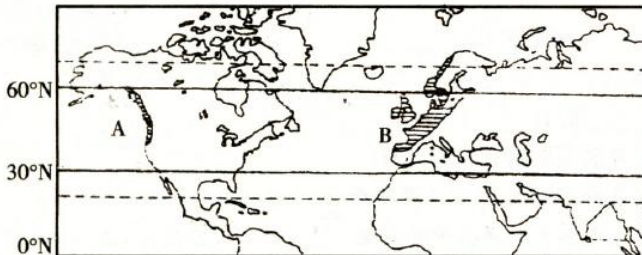
7. 关于甲、乙两种气候特点、成因、分布的不正确叙述是 ( )

- A. 两种气候的相同特点均为雨热同期
- B. 甲地位于南亚南部, 乙地位于我国秦岭以北
- C. 甲、乙两种气候的成因基本相同
- D. 甲、乙两种气候在非洲均无分布

读图, 完成 8~11 题。

8. 有关 A、B 两气候类型的说法正确的是 ( )

- A. A 地是地中海气候, B 地是温带季风气候
- B. 两地均为温带大陆性气候
- C. A 地是高山气候, B 地属温带海洋性气候
- D. A、B 两地都是温带海洋性气候



9. 有关两地气候特征的叙述, 正确的是 ( )

- A. 夏季凉爽, 冬季温和, 降水较丰富且分配均匀
- B. 夏季高温多雨, 冬季寒冷干燥
- C. 夏季炎热干燥, 冬季温和多雨
- D. 四季变化不明显, 分干季和湿季


10. 有关该种气候类型分布规律的表述正确的是 ( )

- A. 北半球 30°-60° 的大陆西岸
- B. 南、北纬 40°-60° 之间的大陆西岸
- C. 南、北半球西风带能影响的地区
- D. 全球暖流流经的沿岸地带

11. B 地比 A 地这种气候范围大, 主要因为 ( )

- A. A 地比 B 地海岸线曲折
- B. B 地流经的是寒流, A 地流经的是暖流
- C. A 地沿岸森林及盖, 减小了西风速度
- D. A 地西部是高大山脉, 阻挡水汽进入

读 “世界著名海峡示意图”, 回答下面 12~14 题:



12. 图中既位于两大洲之间且是重要石油运输路线, 又处在板块张裂地带的是 ( )

- A. A
- B. B
- C. C
- D. D

13. 图中不易产生地震, 风浪却很大的海峡是 ( )

- A. A
- B. B
- C. C
- D. D

14. 当地球公转速度最快的时, A 地气候特征是 ( )

- A. 冬雨夏干
- B. 炎热干燥
- C. 温和少雨
- D. 温和多雨

下图所示区域内自南向北年降水量由约 200 mm 增至 500 mm 左右，沙漠地区年降水量仅 50 mm 左右。据此完成 15—17 题

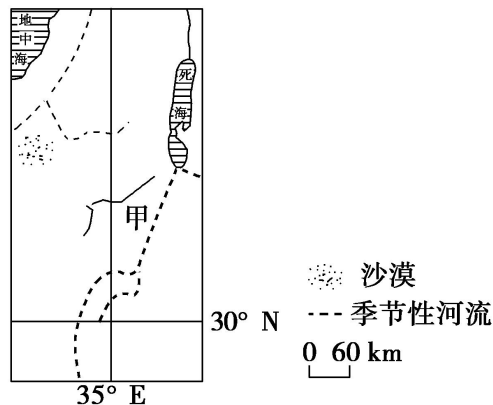
15. 图中甲地区夏季降水量最接近 ( )  
 A. 50 mm B. 150 mm C. 200 mm D. 250 mm

16. 解决该区域农业用水紧缺的可行措施有 ( )  
 ①引湖水灌溉②海水淡化  
 ③改进灌溉技术④建水库调节径流

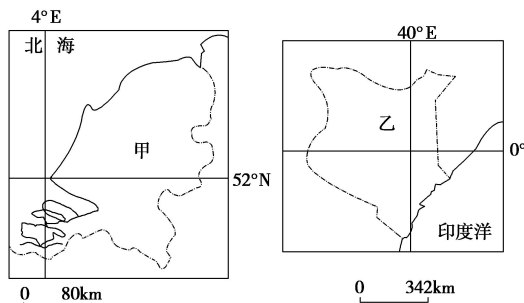
A. ①② B. ②③ C. ③④ D. ①④

17. 甲地区农业发达，其成功之处在于 ( )

- A. 提高了水资源的数量和质量
- B. 调节了降水的季节分配
- C. 调节了降水的年际变化
- D. 提高了水资源的利用率



下图示意的甲、乙两国分别为传统、新兴的鲜切花生产国。读下图，完成 18~20 题。



18. 比较甲、乙两国降水特点及其成因 ( )

- ①甲国受西风带和暖流影响，全年降水较丰沛且季节分配均匀
  - ②甲国受副热带高压带和西风带的交替影响，降水季节差异大
  - ③乙国受赤道低压带影响，全年降水丰沛且季节分配均匀
  - ④乙国受地形影响，降水季节差异大
- A. ①③ B. ①④ C. ②③ D. ②④

19. 与甲国相比，乙国发展鲜切花生产的优势自然条件是 ( )

- ①热量丰富 ②光照充足 ③地势平坦 ④水源丰富
- A. ①② B. ①④ C. ②③ D. ③④

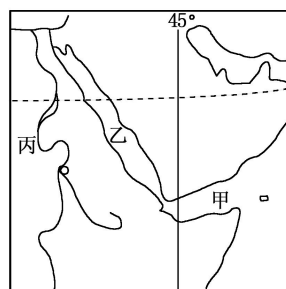
20. 与乙国相比，甲国维持其在世界鲜切花市场竞争力的优势条件是 ( )

- A. 专业化、规模化生产，鲜切花价格较低
- B. 土地丰富，天然花卉品种较多
- C. 培植历史久，劳动力成本较低
- D. 技术含量高，鲜切花质量较优

读世界某热点区域图，回答 21-23 题。

21. 关于图示地区主要气候特征的叙述正确的是 ( )

- A. 降水主要集中在冬季
- B. 全年高温多雨
- C. 全年高温且降水稀少
- D. 夏季盛行西南风，冬季盛行东北风



22. 过往甲乙海区的船只可能遇到的情况是 ( )

- A. 由甲海区进入乙海区, 吃水变浅
- B. 载重相同的情况下, 由乙海区进入甲海区比由甲海区进入乙海区速度要快
- C. 通行于甲乙海区的中国货船多是超大型油轮
- D. 由中国驶入甲乙海区, 手表时针要调快 5 小时

23. 有关丙河的叙述, 正确的是 ( )

- A. 为世界上流域面积最大的河流
- B. 支流众多, 流量丰沛
- C. 全年流量平稳, 航运价值大
- D. 流域内灌溉农业发达

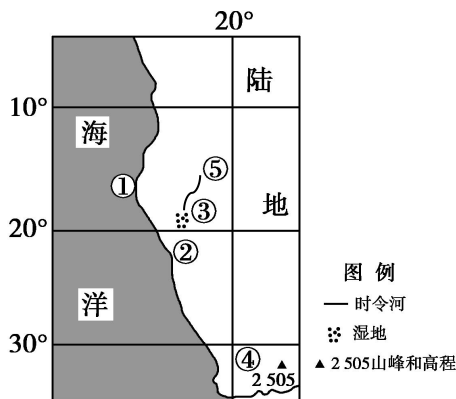
下图为世界某地区图, 读图回答 24、25 题。

24. 关于该地区的地理事物叙述正确的是 ( )

- A. ①处洋流属暖流
- B. ②处景观为荒漠
- C. ③处湿地为淡水沼泽
- D. ④处山顶有终年积雪

25. 当太阳直射图中⑤所在纬线时, 下列说法正确的是 ( )

- A. 悉尼白昼将继续变长
- B. 雅典正值多雨季节
- C. 北京受亚洲低压影响
- D. 伦敦正午太阳高度达一年中最小值



读“北非五国绿色工程示意图”, 完成 26、27 题



26. 影响图中“绿色工程”分布的主要因素 ( )

- A. 热量 B. 水分 C. 地形 D. 洋流

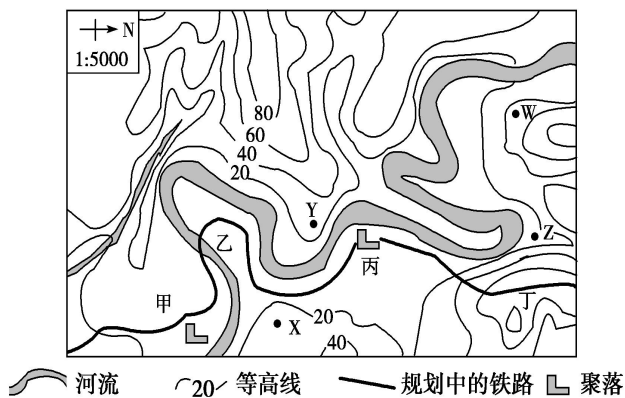
27. 该项工程建设所遵循的地域分异规律是 ( )

- A. 从赤道向两极的地域分异规律
- B. 从沿海向内陆的地域分异规律
- C. 山地的垂直地域分异规律
- D. 非地带性规律

下图为“某地区等高线地形图”。读图, 完成 28~30 题。

28. 根据等高线地形图判断, 图中河流的总体流向大致是 ( )

- A. 西北向东南 B. 东南向西北
- C. 东北向西南 D. 西南向东北



29. 该地区拟建一条铁路, 有人设计了一选线方案(如图)。方案沿线甲、乙、丙、丁四处中明显不合理的有 ( )

- A. 1处
- B. 2处
- C. 3处
- D. 4处

30. 若要安排露营活动地点, 就地形、水文特征判断, 最不适宜的地点是 ( )

- A. W
- B. X
- C. Y
- D. Z

二、综合题 (共 40 分)

31. 读图, 并完成以下要求:

(1) 填出下列半岛名称:

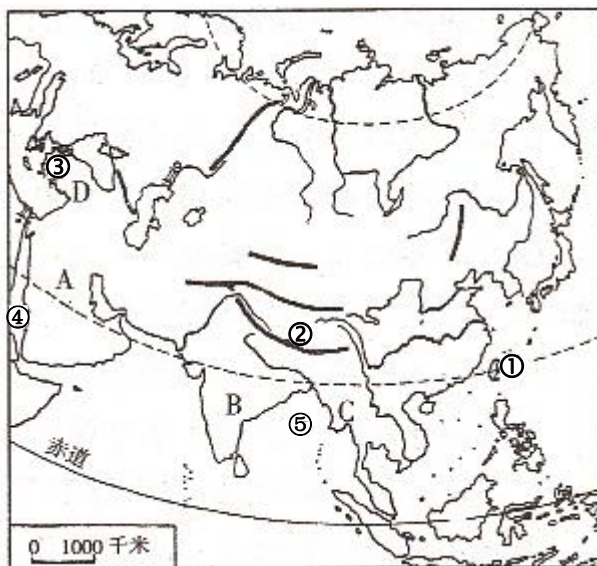
A 是\_\_\_\_\_半岛, B 是\_\_\_\_\_半岛,  
 C 是\_\_\_\_\_半岛, D 是\_\_\_\_\_半岛。

(2) 下列地区各处在哪些大板块交界地带:

- ①岛处在\_\_\_\_\_两大板块之间。
- ②山脉位于\_\_\_\_\_两大板块之间。
- ③半岛界于\_\_\_\_\_三大板块之间。

(3) 说出 A、C 两大半岛的气候类型、特点和成因。

(4) ④海区比⑤海域盐度高的原因是什么?



32. 读图, 完成下列各题。

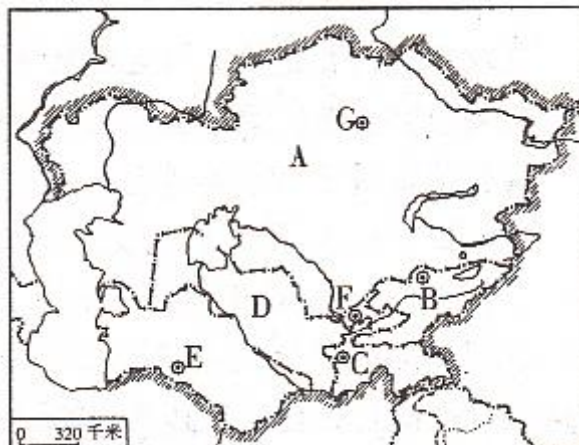
(1) 填出下列国家的名称:

A 是\_\_\_\_\_国, B 是\_\_\_\_\_国, C 是\_\_\_\_\_国

(2) 该地区气候特点是: \_\_\_\_\_, 形成原因是: \_\_\_\_\_。

(3) 有“白金之国”美称的国家是\_\_\_\_\_。该国发展棉花生产的有利条件有: \_\_\_\_\_。

但由于农业灌溉大量用水可能带来的后果有: \_\_\_\_\_。

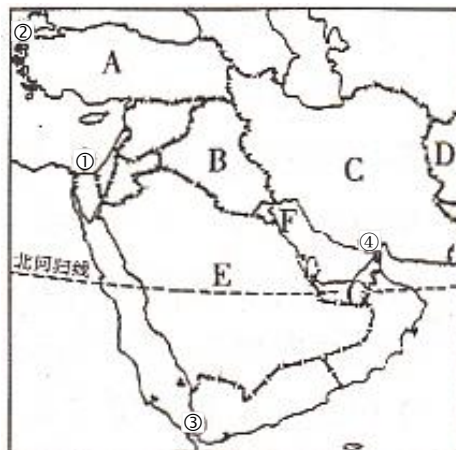


33.

(1) 该图表示的是\_\_\_\_\_地区, ①是\_\_\_\_\_运河, ②是\_\_\_\_\_海峡, ③是\_\_\_\_\_海峡, ④是\_\_\_\_\_海峡, 是海上交通的咽喉要道。

(2) 该地区盛产石油, B 国是\_\_\_\_\_, C 国是\_\_\_\_\_, E 国是\_\_\_\_\_, F 国是\_\_\_\_\_, 以上各国都是重要的石油生产国和出口国。

(3) B 国的\_\_\_\_\_平原是该地区最大的农耕区, 其发展的自然条件有: \_\_\_\_\_。

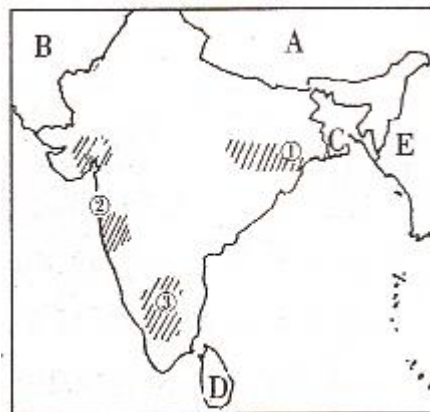


(4) 资料: 1991 年海湾战争造成大量原油流入波斯湾, 在海面上形成长 140 千米, 宽 40 千米的污染地带, 沿科威特海岸向南移动, 据估计, 波斯湾要恢复到污染前的状态, 至少需要 100 年, 你认为石油污染海洋会造成哪些后果?

34.

(1) 说出图中字母所代表的国家: A 是\_\_\_\_\_国, B 是\_\_\_\_\_国, C 是\_\_\_\_\_国。

(3) 印度的主要矿产有\_\_\_\_\_, \_\_\_\_\_, \_\_\_\_\_等, 独立以后印度大力发展民族工业, 新兴工业也具规模。图中所绘工业区中①是\_\_\_\_\_市, \_\_\_\_\_工业发达, ②是\_\_\_\_\_市, 为\_\_\_\_\_工业中心。③是\_\_\_\_\_市, 该工业区是\_\_\_\_\_工业部门。



(4) 印度是个农业大国, 它发展农业的有利条件是: \_\_\_\_\_。

但是, 印度农业生产也面临巨大的压力。这些压力主要来自\_\_\_\_\_。