

西安市第七十一中学

2019-2020 学年度第一学期期中考试

初一年级地理试卷

命题人:翟润东

审核人:张春燕

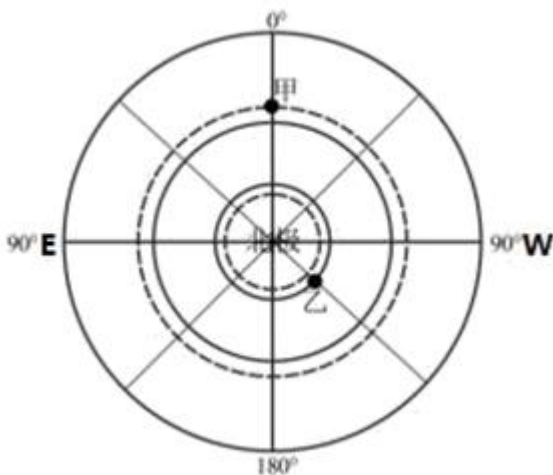
第 I 卷 (选择题)

下列每道题的四个选项中, 只有一个是正确的。

一、选择题 (每题 3 分, 共 60 分)

- 关于地球仪的叙述, 错误的是 ()。
 - 地球仪上地轴是一个假想的旋转轴
 - 地球仪是按一定比例缩小的地球模型
 - 地球仪就是地球本身
 - 南、北极是地轴与地球表面的交点
- 下列关于经纬线的说法, 正确的是 ()
 - 所有纬线都等长
 - 经线指示东西方向
 - 纬线指示南北方向
 - 所有经线等长, 都相交于南北两极
- 图幅相同的四幅地图, 比例尺最大的是 ()
 - 世界地图
 - 中国地图
 - 陕西地图
 - 西安地图
- 下列省区、简称、行政中心组合正确的一组是 ()
 - 广东—桂—广州
 - 四川—渝—成都
 - 青海—青—南宁
 - 山西—晋—太原
- 与西经 165 度组成一个经线圈的另一条经线是 ()
 - 西经 15 度
 - 东经 15 度
 - 北经 15 度
 - 南经 15 度
- 我国人口分布特点是 ()
 - 东部多, 西部少
 - 西部多, 东部少
 - 西北多, 东南少
 - 全国分布均匀

下图为北半球经纬网俯视图。读图并 完成下面 7—8 小题。



7. 甲点的经纬度是 ()

A.(23.5° N, 0°) B.(23.5° S, 0°) C.(23.5° W, 0°) D.(23.5° E, 0°)

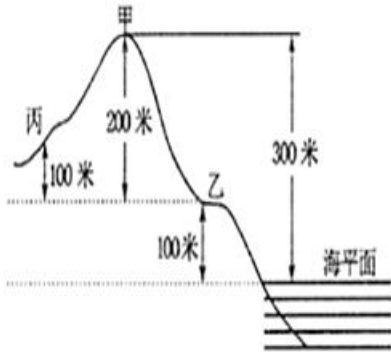
8. 乙地位于地球上的五带中的 ()

A.热带 B.北温带 C.北寒带 D.南温带

9. 小明想建造一个房子, 这个房子以北为热带, 以南为温带, 以东为西半球, 以西为东半球, 这个房子的具体经纬度是 ()

A. (23.5° N, 160° E) B. (23.5° N, 20° W)
C. (23.5° S, 160° E) D. (23.5° S, 20° W)

10. 读下图, 下列说法正确的是 ()



A. 甲地的海拔高度是 200 米 B. 乙地的海拔高度是 100 米
C. 甲乙两地的相对高度是 100 米 D. 甲丙两地的相对高度是 300 米

11. 从赤道向两极 ()

A.经度数越来越大 B.经度数越来越小 C.纬度数越来越大 D.纬度数越来越小

12. 人们通常把陆地地形分为哪五种基本类型? ()

A. 平原、山谷、盆地、鞍部、丘陵 B. 高原、平原、丘陵、山地、盆地
C. 山谷、山脊、山顶、鞍部、陡崖 D. 大陆架、大陆坡、海沟、洋盆、大洋中脊

13. “遥远的东方有一条龙, 它的名字就叫中国”。中国位于 ()

A. 东半球、北半球 B. 东半球、南半球
C. 西半球、北半球 D. 西半球、南半球

14. 黑河—腾冲线是我国人口地理分界线。关于我国人口密度分布的说法, 正确的是 ()

A. 该线以西人口密度较小 B. 青藏高原人口密度大
C. 该线以东人口密度较小 D. 东部沿海、沿河地区人口密度小

15. 我国少数民族中, 人口最多的是 ()

A. 壮族 B. 白族 C. 维吾尔族 D. 蒙古族

16. 假如要给地球缝制一件外衣, 那么所需要的布料应不少于 ()

A. 5.1 亿平方千米
B. 51 亿平方千米
C. 4 万平方千米
D. 6371 万平方千米

17. 我国濒临的海域自北向南依次是 ()

A. 渤海、东海、黄海、南海 B. 黄海、东海、渤海、南海
C. 南海、东海、黄海、渤海 D. 渤海、黄海、东海、南海

18. 我国少数民族人口大约占 8.49%，少数民族主要分布在我国的（ ）

- A. 东部和西部地区 B. 东部和中部地区
C. 西南、西北和东北地区 D. 中部和西南地区

19. 2015 年 10 月 2 日，我国决定全面放开二孩政策。这项政策的实施（ ）

- A. 将会缩小我国城乡差距 B. 将会减少我国人口总量
C. 可以延缓我国人口老龄化现象 D. 可以迅速提升我国人口出生率

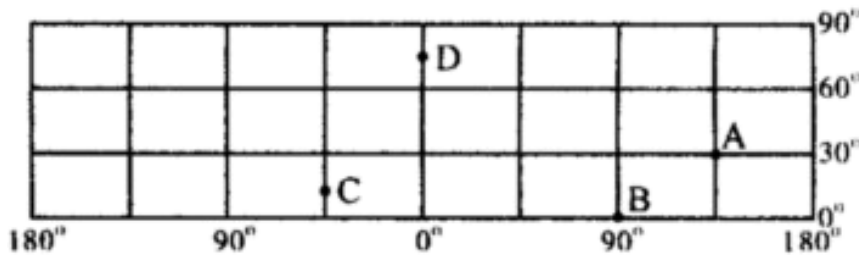
20. 成语“得陇望蜀”中“陇”和“蜀”分别指的是（ ）

- A. 宁夏、青海 B. 甘肃、四川 C. 陕西、山西 D. 湖北、湖南

第 II 卷（非选择题）

二、解答题（共 40 分）

21. 根据下列经纬网图，回答（10 分）



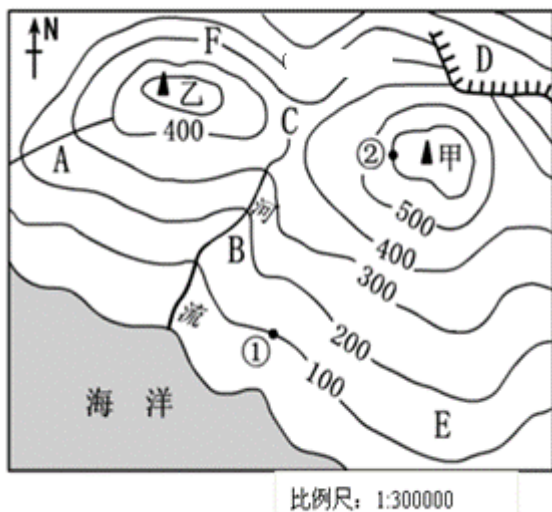
(1) 写出 A、B、C、D 四点的经纬度 A_____，B_____，C_____，D_____（4 分）（C、D 位于网格线的中点。）

(2) C 点在 D 点的_____方向。（1 分）

(3) B 点位于_____（东、西）半球，D 点位于_____（东、西）半球，A 点位于_____（南、北）半球。（3 分）

(4) 从低、中、高纬度看，B 在_____纬度；D 在_____纬度（2 分）

22. 读图“等高线地形图”，完成下列问题。（11 分）



(1) 图中字母表示的地形部位名称。A_____B_____C_____D_____。（4 分）

(2) 沿图中两山坡 E 和 F 爬山，较省力的是沿_____山坡，理由是_____。（3 分）

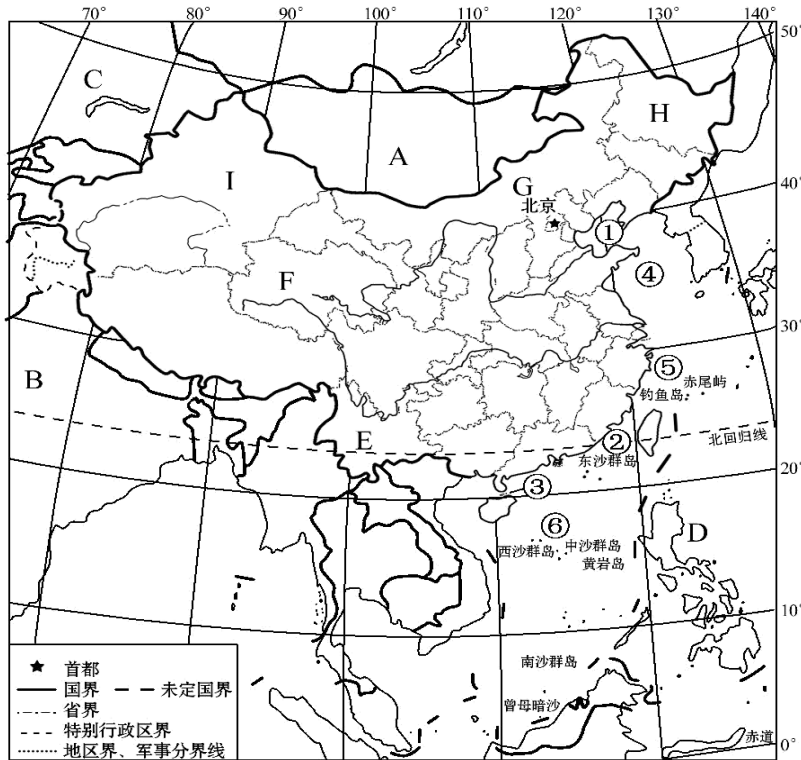
(3) ①、②两点之间的相对高度是_____米。（1 分）

(4) 甲山峰、乙山峰两地图上距离为 3 厘米，那么两地间的实地距离为_____米。（1 分）

分)

(5) 图中小河的流向是_____。(2分)

23. 读“中国及周边地区略图”，完成下列各题。(10分)



(1) 邻国:A _____; B _____。(2分) (2) 海峡:② _____。(1分)

(3) 海域:④ _____; ⑥ _____。(2分)

(4) H省区(全称) _____; I省区(全称) _____。(2分)

(5) F省区的简称 _____; G省区的简称 _____。(2分)

(6) E省区的行政中心 _____。(1分)

24. 读四省区轮廓图，完成下列要求：(9分)



(1) 4个省中，①是_____省，②省的简称是_____，③省的行政中心是_____。(3分)

(2) 4个省中，有热带面积分布的是_____和_____，纬度最高的是_____。(填序号)

(4分)

(3) 关于图中4个省的下列叙述，正确的是_____ (填字母)。(2分)

- A. ①省位于我国的西南部，濒临南海
- B. ②省位置最偏南，我国最南端的曾母暗沙位于该省
- C. ③省简称鄂
- D. ④省是我国的吉林省，它同俄罗斯和蒙古两国为邻