

## 2017-2018 学年度第二学期期中考试

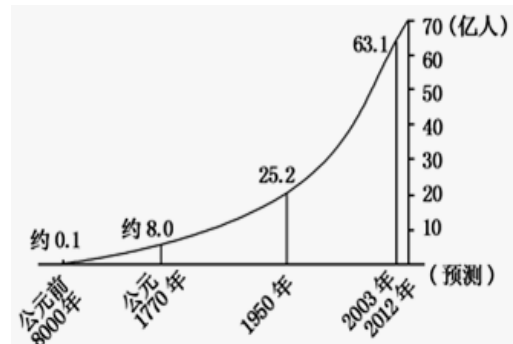
## 高一年级地理试卷

命题人:张春燕 审核人:韩红梅

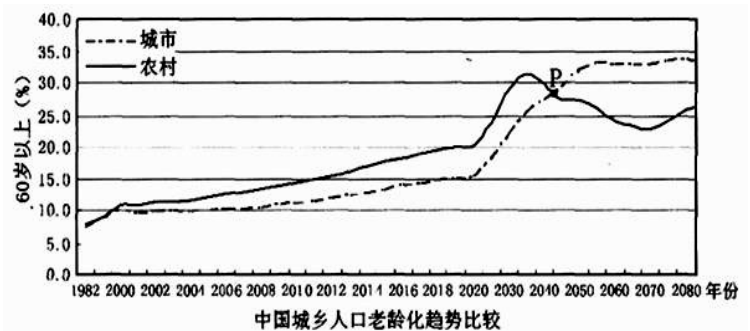
## 一、选择题

1. 读“世界人口增长过程图”，关于世界人口增长的说法，正确的是( )

- A. 世界人口增长最快的时期是公元 1770~1950 年  
 B. 世界人口增长最快的时期是 1950 年以后  
 C. 世界人口增长与生产力的发展无关  
 D. 世界人口增长的快慢取决于自然条件的优劣



研究表明，在人口老龄化过程中，许多国家普遍表现出农村人口老龄化程度高于城市的特点，即“城乡倒置”现象。下图为中国城乡人口老龄化趋势比较。读图回答 2-3 题。



2. 我国人口老龄化“城乡倒置”还会持续约( )

- A. 10 年      B. 15 年      C. 20 年      D. 25 年

3. 目前我国“城乡倒置”现象主要原因是( )

- A. 教育水平      B. 人口迁移      C. 医疗水平      D. 环境质量

4. 下列现象属于人口迁移的是：( )

- A. 我国运动员到巴西里约热内卢参加奥运会  
 B. 贵州农民到广东务工  
 C. 从重庆调往遵义工作定居  
 D. 中国居民赴日旅游

5. 20 世纪 80 年代以来，影响我国人口迁移的主要因素是( )

- A. 交通      B. 生态环境      C. 经济      D. 社会文化

6. 可导致环境人口容量降低的因素有( )

- A. 科学技术水平提高      B. 资源过度使用、利用效率低下  
 C. 环境质量相对稳定      D. 社会经济水平逐步提高

下表为我国湿润半湿润区各温度带的年生物量、可承载人口和最大可能人口密度比较表，

据此回答 7-8 题

	年生物量 (万吨)	可承载人口 (万人)	最大人口密度 (人/平方千米)
温带	197800	45480	237
亚热带	410200	101900	426
热带	22400	5600	486

7. 表中所列“可承载人口”的测算主要考虑的因素是( )  
 A. 社会                      B. 资源                      C. 经济                      D. 技术
8. 表中的“最大人口密度”体现了人口容量的( )  
 A. 相对性                      B. 临界性                      C. 警戒性                      D. 有限性

下表为“我国环境与人口信息表”，读表完成 9-10 题。

最多能供养的人口数量	约 16 亿人	
最适宜的人口数量	温饱型消费水平	10 亿以内
	小康型消费水平	8~9 亿人
	富裕型消费水平	7 亿以内

9. 表中反映我国环境人口容量的数据是( )  
 A. 约 16 亿人      B. 10 亿以内      C. 8~9 亿人      D. 7 亿以内
10. 随着人口不断增加，我国必须进行人口合理容量的估计，其主要意义在于( )  
 A. 限制高消费现象的产生                      B. 规划农业生产的发展规模  
 C. 制定人口战略和人口政策                      D. 帮助贫困地区脱贫致富
11. 下列属于影响人口迁移的拉力因素的是( )  
 A. 工作机会多      B. 生活困难，质量低      C. 公共设施不足      D. 失业率、犯罪率高
12. 人口增长模式归根结底取决于( )  
 A. 人口出生率      B. 人口死亡率      C. 社会生产力      D. 人口总数

读“某国自 18 世纪 80 年代至 20 世纪 70 年代人口再生产类型的四个阶段示意图”，完成

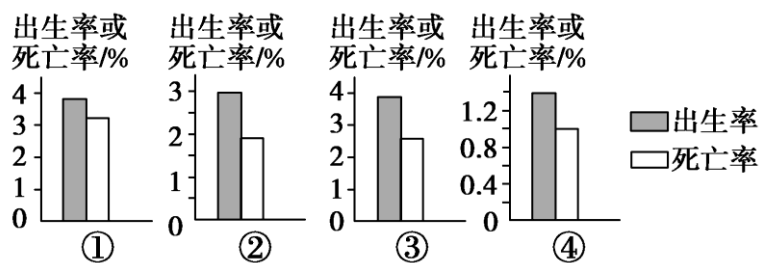
13-14 题。

13. 按人口再生产类型的演变历程，排列正确的是( )

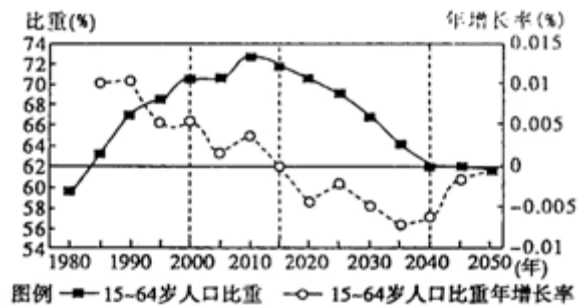
- A. ②③④①      B. ①③②④      C. ①②③④      D. ④①②③

14. 关于该国在不同阶段社会经济特征的叙述，正确的是( )

- A. ①阶段人口老龄化问题严重  
 B. ②阶段农业产值大于工业产值  
 C. ③阶段从事第三产业的人口大于第一、二产业的人口  
 D. ④阶段城市人口的比重最大



我国于 2016 年 1 月 1 日起全面实施一对夫妻可生育两个子女的政策。下图为中国劳动适龄人口（15~64 岁）比重和年增长率变化及预测图。完成 15-16 题。



15. 图中信息反映( )

- A. 2005 年前劳动适龄人口比重持续上升, 年增长率呈下降趋势
- B. 2015 年劳动适龄人口比重年增长率为零, 劳动适龄人口最少
- C. 2050 年劳动适龄人口比重达到最低值, 中国劳动力严重短缺
- D. 中国劳动适龄人口比重和劳动适龄人口比重年增长率无关联性

16. 二胎政策的实施, 近期产生的影响有( )

- A. 劳动力短缺状况得到缓解
- B. 劳动力人口比重增加
- C. 劳动力人口就业构成调整
- D. 人口老龄化速度加快

2008 年第 29 届奥运会在北京顺利举行, 各国运动员齐聚北京。在此期间, 通过交流了解到各国运动员的家庭状况有很大不同。据此回答 17-18 题。

17. 在泰国多数家庭中子女较多, 并且没有男孩的家庭很少, 而在欧美许多国家, 许多年轻人结婚较晚, 有的家庭不愿生育子女, 对以上成因解释最可能的是( )

- A. 地域文化不同
- B. 避孕技术是主要影响因素
- C. 生育政策不同造成的
- D. 饮食结构不同

18. 在各国运动员中, 有许多是其他国家加入他国国籍的, 例如乒乓球女子团体赛银牌得主新加坡的两名运动员都是华侨。对这种人口迁移解释最可能的是( )

- A. 他国自然条件优越
- B. 受婚姻家庭影响
- C. 受政治因素影响
- D. 他国经济水平高, 或在他国有更多的发展机遇

深圳市位于珠江口东侧, 广深铁路终点, 1980 年建立经济特区以后, 城市经济发展迅速, 现已成为以工业为主, 工贸结合, 粮食和农林牧渔并举的外向型综合港口城市。据此回

答 19-20 题。

19. 分析深圳市人口数量变化时, 应重点分析其( )

- A. 人口的迁移
- B. 人口的出生率
- C. 人口的自然增长
- D. 人口的死亡率

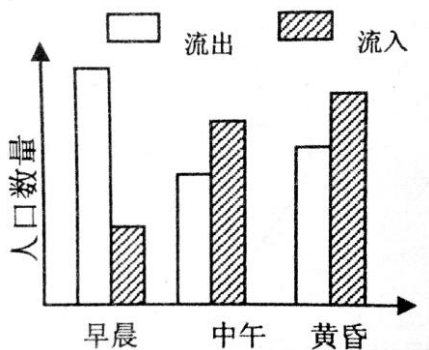
20. 通过人口普查发现, 深圳市人口的死亡率低于全国城市平均水平, 其原因是( )

- A. 营养好
- B. 女性比例高, 寿命长
- C. 人口年龄较年轻
- D. 文化教育水平高

21. 发达国家历史上和发展中国家当前人口迁移的主要类型是( )  
 A. 由农村到城市 B. 由城市到农村 C. 由城市到城市 D. 由农村到农村
22. 城市中最广泛的土地利用方式是( )  
 A. 商业区 B. 工业区 C. 住宅区 D. 文教区
23. 北京围绕故宫一带的市中心不是中心商务区, 而是行政区, 其原因是( )  
 A. 主要受历史因素和城市性质的影响 B. 该地段的交通通达度差  
 C. 该地段地价太高 D. 该地段的地形不适宜作为商业区
24. 下列有关城市空间形态的一般演变过程的排序正确的是( )



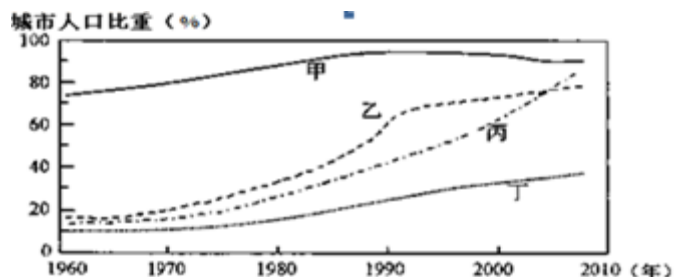
- A. ①②③④ B. ①③②④ C. ①②④③ D. ②①④③
25. 关于中心地的叙述正确的是( )  
 A. 中心地级别越高, 提供职能种类越少  
 B. 中心地级别越低, 中心地服务的范围越大  
 C. 中心地级别越高, 门槛人口越高  
 D. 中心地级别越低, 中心地数目越少, 中心地平均距离越近
26. 下列各组城市的形成, 主导区位因素不相同的一组是( )  
 A. 大庆、克拉玛依 B. 巴西利亚、华盛顿 C. 桂林、鞍山 D. 拉萨、麦加
27. 下图为城市某功能区一天内不同时段的人口流动状况示意图, 由图可推断该功能区最可能是( )



- A. 商业区 B. 工业区 C. 住宅区 D. 行政区

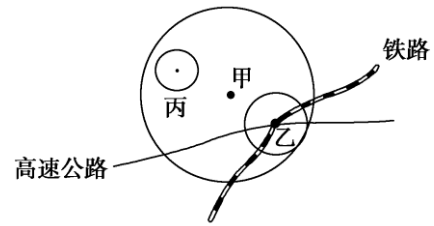
右图是“四国城市人口比重变化示意图”。

读图完成 28-29 问题。



28. 本世纪以来, 城市化水平最高、发展速度最快的分别是( )  
 A. 甲、丁 B. 乙、丁  
 C. 乙、丙 D. 甲、丙
29. 最早出现逆城市化现象的是( )  
 A. 甲 B. 乙 C. 丙 D. 丁

30. 右图为“甲、乙、丙三个服务中心的服务范围示意图”，读图，下列商业部门与图中服务中心甲、乙、丙的服务职能依次对应正确的是（ ）



- A、汽车销售、珠宝商行、星级宾馆
- B、高档电器、早点铺、星级宾馆
- C、早点铺、星级宾馆、家用电器
- D、星级宾馆、家用电器、早点铺

右图是某城市医院与卫生所分布图，读后回答 31-32 题。

31. 医科大学毕业的小明想开一家私人卫生所，该卫生所最适宜选择在（ ）

- A. ① B. ② C. ③ D. ④

32. 他选择该处的理由是（ ）

- A. 该地卫生所集中，成行成市利于经营
- B. 位于其他卫生所服务范围的边缘
- C. 靠近大医院，可获得其技术支持
- D. 城市边缘有足够的土地发展空间



读右图，回答下列各题。

33. 四地中租金最高的是（ ）

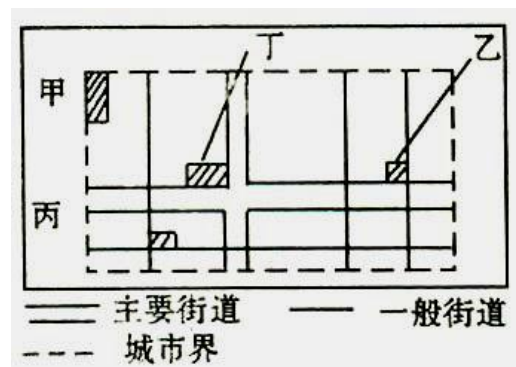
- A. 甲 B. 乙 C. 丙 D. 丁

34. 若在四地选择一处建为绿地，从环境角度考虑，对城区意义最大的是（ ）

- A. 甲 B. 乙 C. 丙 D. 丁

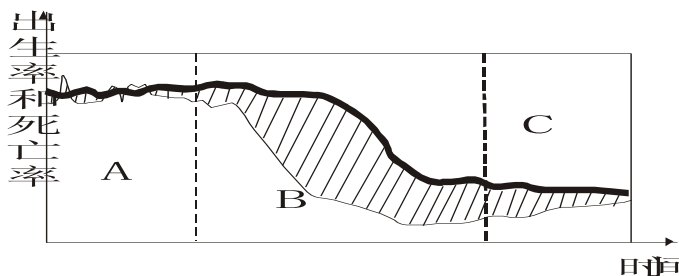
35. 甲地建成一大型批发市场，其区位优势最有可能是（ ）

- A. 临近高速公路 B. 客流量大
- C. 地价低廉 D. 环境优美



二、综合题

36. 读“人口增长模式转变示意图”，完成下列要求。

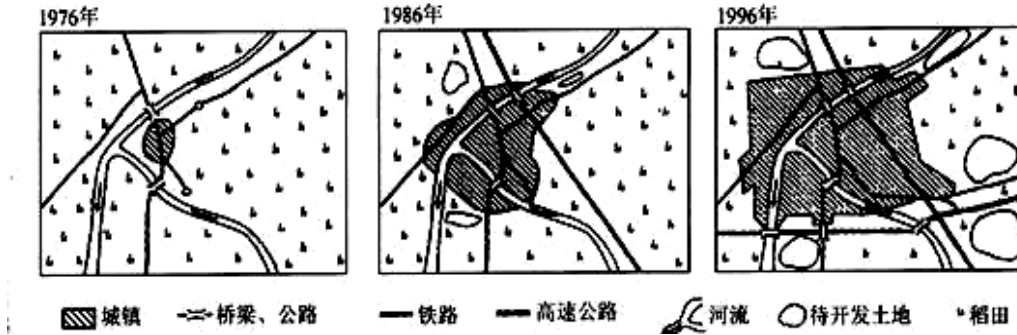


- (1) 图中粗线表示人口出生率，细线表示人口死亡率，则//////部分表示\_\_\_\_\_。
- (2) 图中 A 阶段，人口的出生率\_\_\_\_\_、死亡率\_\_\_\_\_，自然增长率\_\_\_\_\_，人口增长模式为“\_\_\_\_\_”。
- (3) 图中 B 阶段人口增长模式为“\_\_\_\_\_”。
- (4) 图中 C 阶段人口的出生率、死亡率和自然增长速度都\_\_\_\_\_，人口增长模式为“\_\_\_\_\_”。

(5) 20 世纪 70 年代以来, 我国由于大力开展\_\_\_\_\_工作, 目前我国人口增长模式已经步入“\_\_\_\_\_”人口增长模式。

(6) 分析上图得出人口增长模式是由\_\_\_\_\_、\_\_\_\_\_和\_\_\_\_\_三基本原则项指标共同构成的。

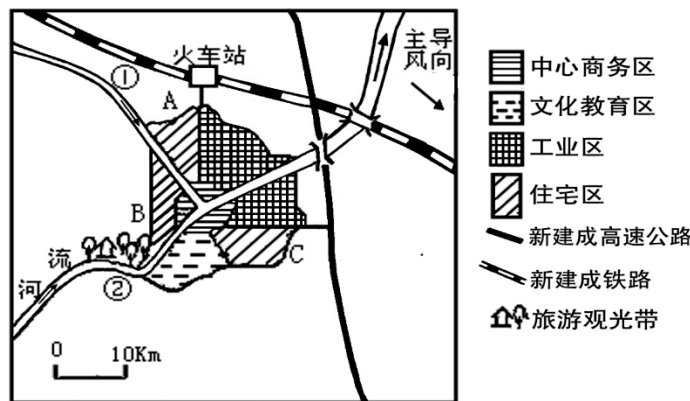
37. 读“某地区土地利用变化图”, 分析回答问题。



(1) 此图反映了该地区的\_\_\_\_\_过程, 该过程的具体表现是: \_\_\_\_\_、\_\_\_\_\_、\_\_\_\_\_。

(2) 该过程中使图中城市日益突出的环境污染包括: \_\_\_\_\_污染、\_\_\_\_\_污染、\_\_\_\_\_污染、\_\_\_\_\_污染等。

38. (10 分) 请根据下图中的有关信息, 完成下列各题。



(1) 图中城市最初形成的主要区位条件是\_\_\_\_\_ (河流、矿产资源)。(2 分)

(2) A、B、C 三处最适宜建高级住宅区的是\_\_\_\_\_。判断理由是\_\_\_\_\_。(4 分)

(3) 随着城市经济的发展, 拟在①、②处分别新建化工厂和自来水厂。请根据所学知识完成下表。(4 分)

地点	拟建项目	是否合理	判断理由
①	化工厂		
②	自来水厂		